



BÀI THI XÉT CẤP HỌC BỔNG “CANON – CHẤP CẢNH NHÂN TÀI NĂM HỌC 2016-2017”

Ngày..... tháng..... năm

Phần 1: Thông tin cá nhân

Họ và tên:..... (Viết chữ in hoa)

Ngày sinh:.....

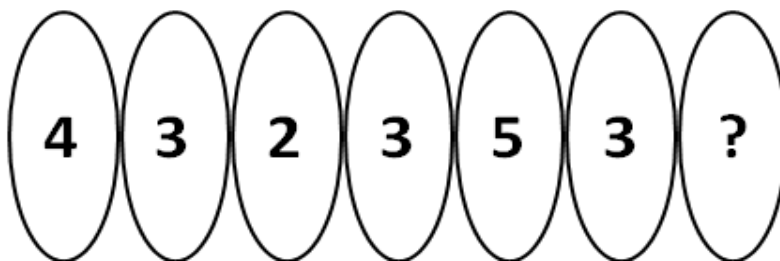
Điện thoại liên hệ:.....

Phần 2: Câu hỏi IQ (10 điểm)

[Bài gồm 10 câu IQ, mỗi câu 0,2 điểm]

Câu 1

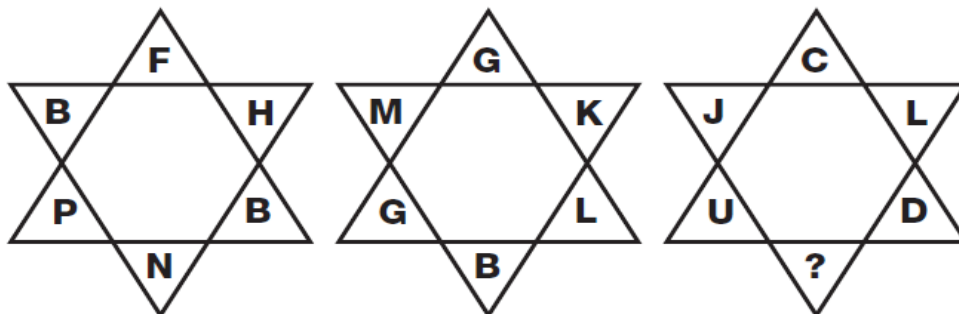
Điền nốt số còn thiếu vào dấu “?”



Đáp án:.....

Câu 2:

Hãy điền chữ số thích hợp vào dấu“?”



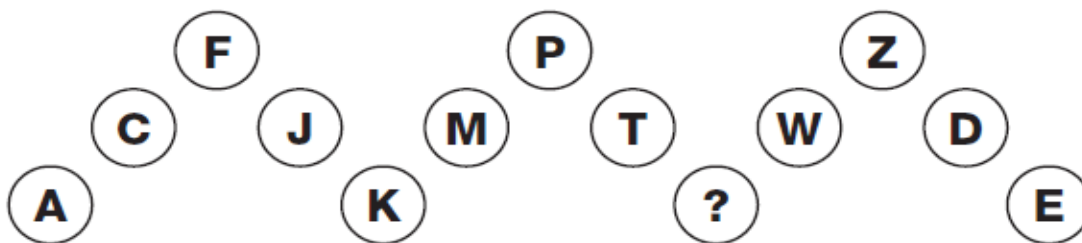
Đáp án:.....



BÀI THI XÉT CẤP HỌC BỔNG “CANON – CHẤP CẢNH NHÂN TÀI NĂM HỌC 2016-2017”

Câu 3:

Chữ cái nào còn thiếu trong dãy chữ cái sau:



Đáp án:.....

Câu 4:

Hãy cho biết còn kém bao nhiêu phút thì đến 12 giờ, biết rằng 72 phút trước đây, số phút kém 12 giờ gấp 2 lần số phút quá 9 giờ.

Đáp án:.....

Câu 5:

Trong một hóa đơn bán hàng ghi tổng giá tiền “-6.79-.000”, có hai chữ số bị mờ không nhìn rõ (ký hiệu “-”). Biết rằng đây là hóa đơn mua 72 chai rượu, hãy tính xem giá trị mỗi chai rượu là bao nhiêu? (Giá mỗi chai rượu là bằng nhau).

Đáp án:.....

Câu 6:

Có 3 giả thuyết như sau:

Giả thuyết 1: Các hòn đảo nằm giữa biển

Giả thuyết 2: Soyons là một hòn đảo

Giả thuyết 3: Soyons được hình thành từ một ngọn núi lửa

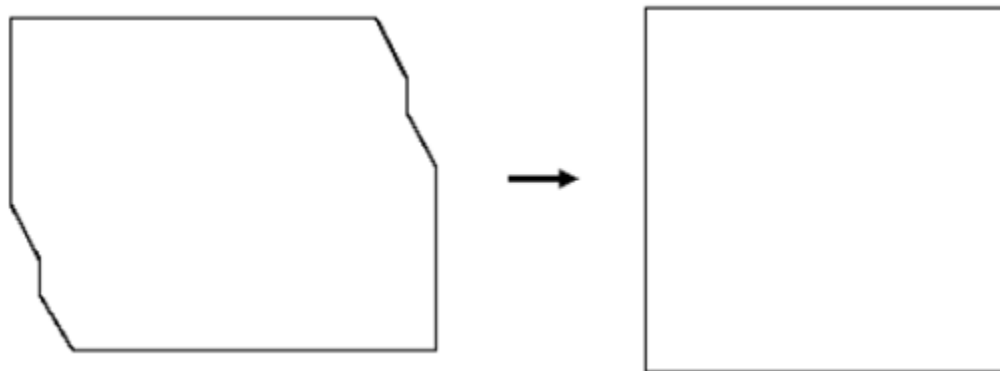
Và 3 kết luận:

Kết luận I: Đảo Soyons ở giữa biển

BÀI THI XÉT CẤP HỌC BỔNG “CANON – CHẤP CẢNH NHÂN TÀI NĂM HỌC 2016-2017”

Câu 9:

Hãy cắt hình chữ nhật bên trái thành hai mảnh sao cho khi ghép lại được thành hình vuông như bên phải. (Vẽ đường cắt vào hình đã cho, chú ý giữ đúng tỷ lệ kích thước)



Câu 10:

Từ 7 đường thẳng, có thể xếp tối đa bao nhiêu hình tam giác? Biết rằng: không tính các hình tam giác chung cạnh, các hình tam giác có diện tích chồng lên nhau.

Ví dụ 1 cách xếp: trong hình dưới có 7 hình tam giác được tính.

